



А. А. Плешаков Н. Н. Гара
З. Д. Назарова

Окружающий МИР Тесты



ПРОСВЕЩЕНИЕ
ИЗДАТЕЛЬСТВО

ШКОЛА РОССИИ



А. А. Плешаков Н. Н. Гара З. Д. Назарова

Окружающий МИР Тесты



Пособие для учащихся
общеобразовательных
учреждений

6-е издание

Москва
«Просвещение»
2012

2
класс

УДК 373.167.1:50
ББК 2я72
П38

Серия «Школа России» основана в 2001 году

Эта тетрадь содержит тесты по всем темам курса «Окружающий мир» для 2 класса. С их помощью ты можешь быстро проверить свои знания. На каждый вопрос дано несколько вариантов ответов, среди них только один правильный. Многие ответы представлены в виде рисунков. Выбери правильный ответ и отметь его (закрась кружок).

В конце тетради имеются ответы на все тесты. Но не спеши смотреть туда. Постарайся выполнить работу самостоятельно. И только после этого можешь проверить себя.

Плешаков А. А.

П38 Окружающий мир. Тесты. 2 класс: пособие для учащихся общеобразоват. учреждений / А. А. Плешаков, Н. Н. Гара, З. Д. Назарова. — 6-е изд. — М.: Просвещение, 2012. — 95 с. : ил. — (Школа России). — ISBN 978-5-09-026454-9.

УДК 373.167.1:50
ББК 2я72

ISBN 978-5-09-026454-9

© Издательство «Просвещение», 2007
© Художественное оформление.
Издательство «Просвещение», 2007
Все права защищены

ГДЕ МЫ ЖИВЁМ

ТВОЙ АДРЕС В МИРЕ

1. Страна, в которой мы живём, называется:

Ⓐ Франция

Ⓑ Китай

Ⓑ Россия

Ⓒ Турция

2. Столица Российской Федерации:

Ⓐ Санкт-Петербург

Ⓑ Москва

Ⓑ Екатеринбург

Ⓒ Воронеж

3. На каком из этих рисунков изображён герб России?

Ⓐ

Ⓑ

Ⓑ



4. На каком из этих рисунков изображён флаг России?

А



Б



В



Г



ЧТО НАС ОКРУЖАЕТ

5. Отметь ответ без ошибки.

А

Солнце, воздух, вода, растения, животные, поезда — это природа.

Б

Солнце, воздух, вода, растения, животные, человек — это природа.

В

Солнце, воздух, вода, растения, животные, дома — это природа.

6. Отметь, что относится к природе.

А



Б




В



Г



Д



7. Отметь ответ с ошибкой.

- Ⓐ Компьютеры, телефоны, телевизоры созданы человеком.
- Ⓑ Самолёты, автомобили, велосипеды созданы человеком.
- Ⓒ Дороги, дома, растения созданы человеком.

8. Отметь, что НЕ относится к природе.

Ⓐ



Ⓑ



Ⓒ



Ⓓ




Ⓔ



ПРИРОДА

НЕЖИВАЯ И ЖИВАЯ ПРИРОДА

9. Что на рисунке относится к неживой природе?



10. Что на рисунке относится к живой природе?



11. К неживой природе НЕ относится:

- Ⓐ солнце Ⓑ воздух
Ⓒ вода Ⓓ растение

12. К живой природе НЕ относится:

- Ⓐ растение Ⓑ гриб
Ⓒ камень Ⓓ животное

ЯВЛЕНИЯ ПРИРОДЫ


13. Отметь явление в неживой природе.

- Ⓐ Листопад
Ⓑ Цветение яблонь
Ⓒ Отлёт перелётных птиц
Ⓓ Таяние снега

14. Отметь явление в живой природе.

- Ⓐ Прилёт перелётных птиц
Ⓑ Восход солнца
Ⓒ Снегопад
Ⓓ Радуга

15. Какое явление природы НЕ изображено на рисунках?



А Гроза

Б Дождь

В Туман

Г Метель

Д Град

16. Какое время года описано в стихотворении?

Лес, точно терем расписной,
Лиловый, золотой, багряный,
Весёлой, пёстрою стеной
Стоит над светлою поляной...

И. Бунин

А Лето

Б Осень

В Зима


Г Весна

КАК ИЗМЕРЯЮТ ТЕМПЕРАТУРУ?

17. Отметь на рисунке уличный термометр.



А



Б



В

18. Шкала термометра — это:

- А стеклянная трубка, наполненная жидкостью
- Б пластинка с делениями
- В корпус прибора

19. Что произойдёт со столбиком жидкости в трубке термометра, если его поместят в горячую воду?

- А Останется на месте
- Б Опустится
- В Поднимется

20. Какая температура тела человека говорит о том, что он заболел?

- А Ниже $+37^{\circ}$
- Б Выше $+37^{\circ}$

ЧТО ТАКОЕ ПОГОДА?

21. Что НЕ влияет на состояние погоды?

- А Солнце
- Б Ветер
- В Осадки
- Г Листопад

22. Как характеризуют облачность, если на небе много облаков и они часто закрывают солнце?

- А Ясно
- Б Переменная облачность
- В Пасмурно

23. Отметь рисунок с изображением явления погоды.



24. О каком явлении погоды эта загадка?

Молоко по речке плыло,
Ничего не видно было.
Растворилось молоко —
Стало видно далеко.

- А Радуга Б Ветер В Дождь
Г Снегопад Д Туман Е Гроза

В ГОСТИ К ОСЕНИ

25. В каком ответе осенние месяцы перечислены в правильном порядке?

- Ⓐ Сентябрь, ноябрь, октябрь
- Ⓑ Ноябрь, сентябрь, октябрь
- Ⓒ Сентябрь, октябрь, ноябрь


26. К осенним явлениям в неживой природе НЕ относится:

- Ⓐ похолодание
- Ⓑ появление инея
- Ⓒ ледостав
- Ⓓ увядание трав

27. К осенним явлениям в живой природе НЕ относится:

- Ⓐ листопад
- Ⓑ отлёт перелётных птиц
- Ⓒ заморозки
- Ⓓ исчезновение насекомых

28. На каком рисунке изображён стриж?



ЗВЁЗДНОЕ НЕБО

29. Узнай созвездие по описанию.

Это созвездие можно увидеть на небе в любое время года. Его главные звёзды образуют фигуру, похожую на букву «М», растянутую за «ножки».

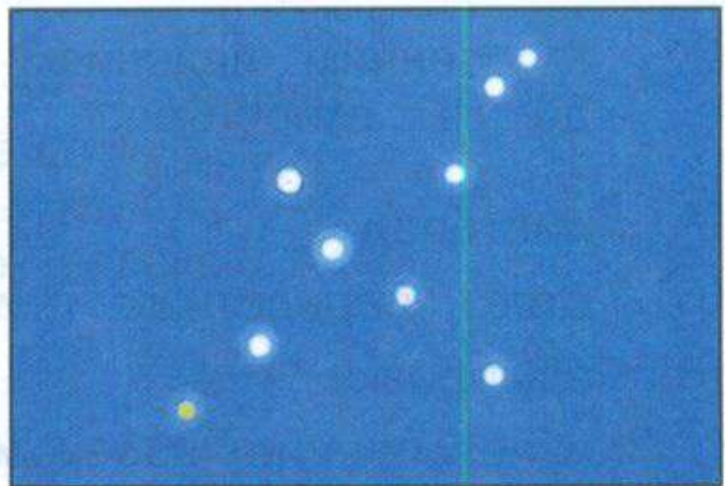
(A) Кассиопея (Б) Орион (В) Лебедь

30. Узнай созвездие по рисунку.

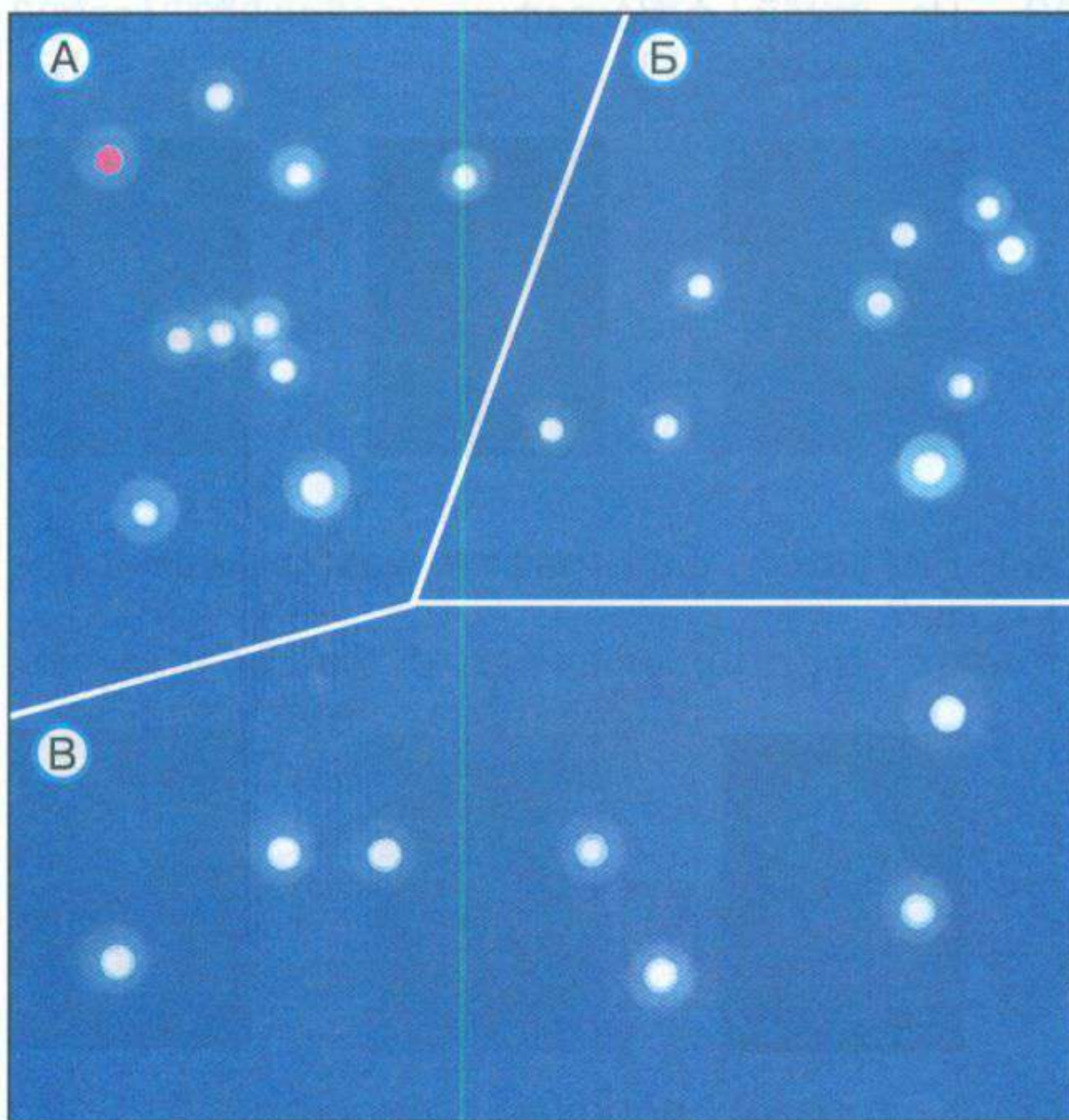
(A) Кассиопея

(Б) Орион

(В) Лебедь



31. Какое созвездие названо по имени охотника из древнегреческих мифов?



32. Сколько созвездий в зодиаке? *

- (А) 6 (Б) 10 (В) 12 (Г) 24

ЗАГЛЯНЕМ В КЛАДОВЫЕ ЗЕМЛИ

33. На какой фотографии изображён кварц?

А



Б



В



34. На какой фотографии изображена слюда?

А



Б



В



35. К горным породам относится:

А

полевой шпат

Б

кварц

В

слюда

Г

мрамор

36. К минералам относится:





- Ⓐ глина
- Ⓑ гранит
- Ⓑ слюда
- Ⓒ кремь

ПРО ВОЗДУХ...

37. Отметь верное утверждение.

- Ⓐ Воздух — часть живой природы.
- Ⓑ Воздух — часть неживой природы.
- Ⓒ Воздух не относится к природе.

38. Какое из этих транспортных средств загрязняет воздух?



39. Воздух нельзя:

- Ⓐ увидеть
- Ⓑ услышать
- Ⓒ почувствовать рукой

40. Какое средство транспорта НЕ загрязняет воздух?



...И ПРО ВОДУ

41. Отметь верное утверждение.

- Ⓐ Вода относится к живой природе.
- Ⓑ Вода не относится к природе.
- Ⓒ Вода относится к неживой природе.

42. Что НЕ состоит из воды?



А

В



Б



Г



43. В каком из этих случаев люди НЕ загрязняют воду?



44. Что люди строят для защиты воды от загрязнения?


- Ⓐ Плотины
- Ⓑ Набережные
- Ⓒ Очистные сооружения

КАКИЕ БЫВАЮТ РАСТЕНИЯ?

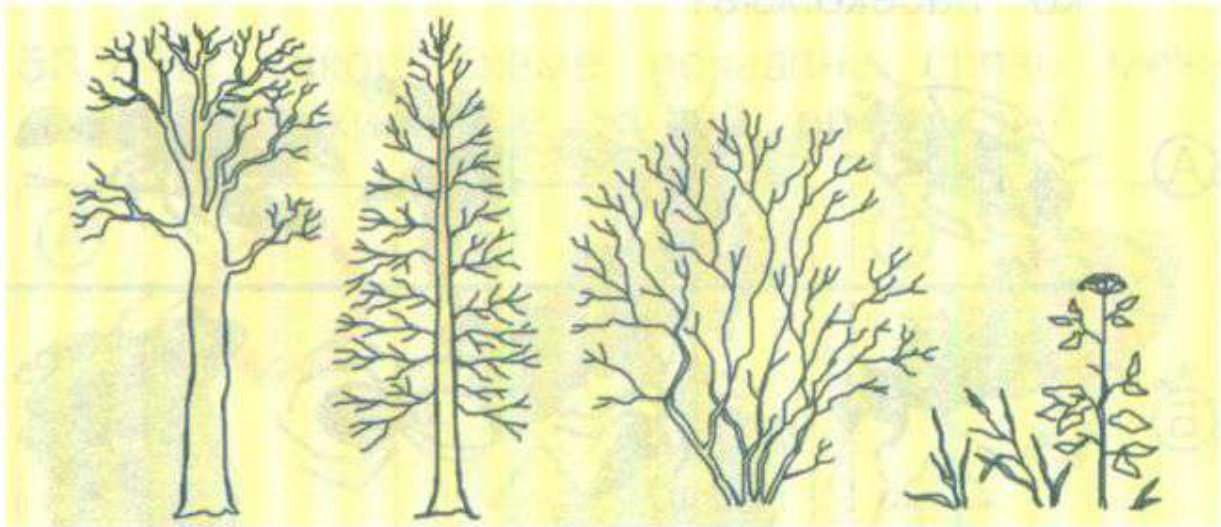
45. У каких растений один твёрдый, одревесневший стебель?

- Ⓐ У деревьев
- Ⓑ У кустарников
- Ⓒ У травянистых растений

46. Отметь листья хвойного растения.



47. Найди на схеме кустарник.



А

Б

В

Г

48. В каком ответе перечислены только травянистые растения?


- А Сосна, дуб, клён
- Б Ель, орешник, одуванчик
- В Подорожник, репейник, крапива

КАКИЕ БЫВАЮТ ЖИВОТНЫЕ?

49. Отметь признак птиц.

- А Шерсть
- Б Шесть ног
- В Перья
- Г Чешуя

50. В каком ряду рисунков показаны только насекомые?



51. Шерсть является признаком:

- А насекомых Б рыб
В птиц Г зверей

52. В каком ответе названы только рыбы?

- А Окунь, лещ, крот, пескарь, камбала
Б Щука, карась, акула, ёрш, сом
В Треска, судак, лягушка, сорока, комар

НЕВИДИМЫЕ НИТИ

53. На какой схеме показана связь между неживой и живой природой?



54. Какой пример НЕ относится к связям между природой и человеком?

- А Дети хорошо отдохнули на пляже у реки.
- Б Птицы в гнезде заботливо кормят птенцов.
- В Дети собрали в лесу много ягод и грибов.
- Г Построив на реке электростанцию, люди обеспечили дома электричеством.

55. На каком рисунке показана связь между различными животными?



56. Отметь пример связей между растениями и животными.

- А Лягушка липким языком ловит комаров.
- Б Белка питается семенами хвойных деревьев и орехами.
- В Сова с наступлением темноты вылетает охотиться на мышей и полёвок.

ДИКОРАСТУЩИЕ И КУЛЬТУРНЫЕ РАСТЕНИЯ

57. О каких растениях рассказано?

Эти растения можно увидеть в лесу, на лугу, у водоёма. Встречаются они и во дворе, в огороде, в поле. Но везде они растут сами по себе — люди их не выращивают.

- Ⓐ О дикорастущих
- Ⓑ О культурных


58. Отметь, что относится к дикорастущим растениям.

- Ⓐ Персик
- Ⓑ Роза
- Ⓒ Камыш
- Ⓓ Хлопчатник
- Ⓔ Кабачок

59. К культурным растениям относится:

- Ⓐ орешник
- Ⓑ клён
- Ⓒ репейник
- Ⓓ слива
- Ⓔ мать-и-мачеха

60. На каком рисунке показаны культурные растения?



ДИКИЕ И ДОМАШНИЕ ЖИВОТНЫЕ


61. О каких животных рассказано?

Этих животных разводят люди. Они кормят и защищают этих животных, строят для них жилища, заботятся об их потомстве.

А О диких

Б О домашних

62. На каком рисунке показаны только дикие животные?



63. К диким животным относится:

- (А) лошадь (Б) корова
(В) индюк (Г) заяц

64. К домашним животным относится:

- (А) лев (Б) тигр
(В) осёл (Г) воробей

КОМНАТНЫЕ РАСТЕНИЯ

65. К комнатным растениям относится:


- (А) астра (Б) тюльпан (В) нарцисс
(Г) пеларгония (Д) гладиолус

* 66. Какой кактус показан на фотографии?



- (А) Опунция
(Б) Цереус

67. На каком рисунке показаны кактус, традесканция и плющ?




68. К комнатным растениям НЕ относится:

- Ⓐ пеларгония Ⓑ фикус Ⓒ бегония
Ⓓ традесканция Ⓔ василёк

ЖИВОТНЫЕ ЖИВОГО УГОЛКА

69. На каком рисунке показаны гуппи, меченосец и сомик?



70. Какое животное может находиться в живом уголке?

- А Тигр
- Б Крокодил
- В Канарейка
- Г Бобр

71. Какое животное НЕ может находиться в живом уголке?

- А Попугай
- Б Морская свинка
- В Черепаха
- Г Крот

72. В каком ответе нарисованные животные подписаны правильно?



- Ⓐ Волнистый попугайчик, синица, морская свинка
- Ⓑ Волнистый попугайчик, канарейка, морская свинка
- Ⓒ Волнистый попугайчик, канарейка, белая крыса

ПРО КОШЕК И СОБАК

73. Отметь на рисунке сиамскую кошку.



74. Какое название НЕ относится к породам кошек?

- (А) Персидская (Б) Сибирская
(В) Русская голубая (Г) Водолаз

75. В каком ответе породы собак подписаны в правильной последовательности?




- (А) Лабрадор, пудель, колли, такса
(Б) Колли, пудель, такса, лабрадор
(В) Пудель, лабрадор, такса, колли

76. Какое название НЕ относится к породам собак?

- (А) Дог (Б) Сенбернар
(В) Данио рерио (Г) Боксёр

КРАСНАЯ КНИГА

77. Какое из этих растений внесено в Красную книгу России?



78. О каком растении рассказано?

Это ценнейшее лекарственное растение. Интересно, что его корень по форме напоминает человеческую фигуру.

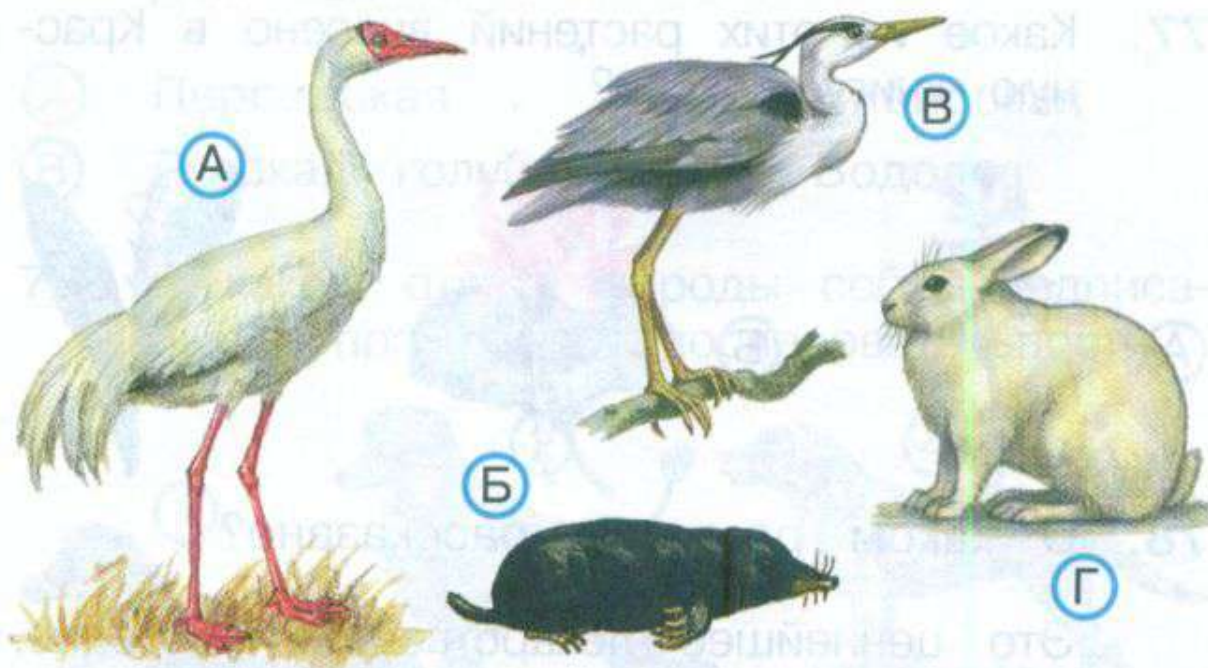
- Ⓐ Венерин башмачок Ⓑ Лотос
Ⓒ Женьшень

79. Узнай животное по описанию.

Это крупный зверь тяжёлого сложения. Длина его тела достигает трёх метров, а высота — двух метров.

- Ⓐ Дровосек реликтовый Ⓑ Стерх
Ⓒ Зубр

80. Какое из этих животных внесено в Красную книгу России?



БУДЬ ПРИРОДЕ ДРУГОМ!

81. Отметь знак, который соответствует правилу:

«Не будем ловить диких животных и уносить их домой».



А



Б



В




Г



Д

82. На каком рисунке изображена медуница?



83. Среди животных, нуждающихся в охране, отметь земноводное.

- А Божья коровка Б Паук
В Лягушка Г Ящерица Д Шмель

84. Среди животных, нуждающихся в охране, отметь пресмыкающееся.

- А Стрекоза Б Синица В Лягушка
Г Ящерица Д Скворец

ЖИЗНЬ ГОРОДА И СЕЛА

ГОРОД И СЕЛО

85. Какой это населенный пункт?

В нём много улиц и высоких домов, работают школы, музеи, театры, много магазинов.

А Город

Б Село

86. Что НЕ является признаком села (деревни)?

А Невысокие дома

Б Есть ферма, скотный двор

В Жители занимаются разведением культурных растений, выращиванием домашних животных

Г На улицах много автомобилей, есть троллейбусы, трамваи

87. Что НЕ является признаком города?

- Ⓐ Большие многоэтажные дома
- Ⓑ Много улиц, есть фабрики и заводы
- Ⓒ Мало улиц, есть ферма, скотный двор
- Ⓓ По улицам движутся автобусы и троллейбусы

88. Какая фотография сделана в селе?



ЧТО ТАКОЕ ЭКОНОМИКА?

89. Слово «экономика» означает:

- Ⓐ продажа товаров Ⓑ бережливость
Ⓒ сельское хозяйство Ⓓ хозяйство

90. В каком ответе части экономики указаны верно?



- Ⓐ Торговля, промышленность, сельское хозяйство
Ⓑ Строительство, сельское хозяйство, промышленность
Ⓒ Торговля, транспорт, строительство

91. Промышленность занимается:

- Ⓐ выращиванием культурных растений и домашних животных
- Ⓑ производством бытовой техники, мебели, одежды
- Ⓒ перевозкой пассажиров и грузов
- Ⓓ продажей одежды, обуви, посуды

92. Отметь, что появилось раньше. *

- Ⓐ Бумажные деньги
- Ⓑ Монеты



ИЗ ЧЕГО ЧТО СДЕЛАНО?

93. Найди ошибку.

- Ⓐ Хлопок → постельное бельё
- Ⓑ Шерсть → свитер, кофта, варежки
- Ⓒ Глина → книга, журнал, тетрадь
- Ⓓ Железная руда → станок, машина, поезд

94. Какое изделие сделано НЕ из глины?



А



Б



В




Г

95. Отметь лишний рисунок.




А



Б



В



Г

* 96. Родиной бумаги считается:

А Россия

Б Китай

В Индия

Г Франция

КАК ПОСТРОИТЬ НОВЫЙ ДОМ?

97. К землеройным машинам относится:

А автопогрузчик

Б автокран

В башенный кран

Г экскаватор

98. Какой рисунок подписан неверно?



А Экскаватор



Б Самосвал



В Бульдозер



Г Автокран

99. К строительным материалам НЕ относится:

А песок

Б самосвал

В шифер

Г бетонная плита

100. Что НЕ нужно для постройки дачи?

А Кирпичи

Б Брёвна

В Доски

Г Цемент

Д Железная руда

КАКОЙ БЫВАЕТ ТРАНСПОРТ?

101. К наземному транспорту относится:



102. К грузовому транспорту НЕ относится:

А самосвал

Б самолёт «Руслан»

В электричка

Г баржа

103. Отметь лишний рисунок.



104. К общественному транспорту относится: ★

- А легковой автомобиль Б мотоцикл
 В велосипед Г троллейбус

КУЛЬТУРА И ОБРАЗОВАНИЕ

105. В каком ответе перечислены только учреждения культуры?

- А Театр, музей, детский сад, школа
 Б Театр, музей, концертный зал, библиотека
 В Театр, музей, университет, выставочный зал

106. Что НЕ относится к учреждениям образования?

- А Школа Б Гимназия В Лицей
 Г Цирк Д Университет

107. Первый русский музей:

- А Эрмитаж Б Кунсткамера
 В Политехнический Г Зоологический

★ 108. Узнай музей по фотографии.



- Ⓐ Эрмитаж
- Ⓑ Русский музей
- Ⓒ Третьяковская галерея
- Ⓓ Музей изобразительных искусств имени А.С. Пушкина

ВСЕ ПРОФЕССИИ ВАЖНЫ


109. Кто шьёт одежду?

- Ⓐ Ткачиха
- Ⓑ Портниха
- Ⓒ Машинист
- Ⓓ Продавец

110. Кто пишет музыку?

- Ⓐ Писатель
- Ⓑ Артист
- Ⓒ Композитор
- Ⓓ Художник

111. Кто варит сталь?



112. Сельскохозяйственные профессии — это:

- Ⓐ шофёр, маляр, крановщик
- Ⓑ пчеловод, доярка, комбайнёр
- Ⓒ воспитатель, врач, учёный

В ГОСТИ К ЗИМЕ

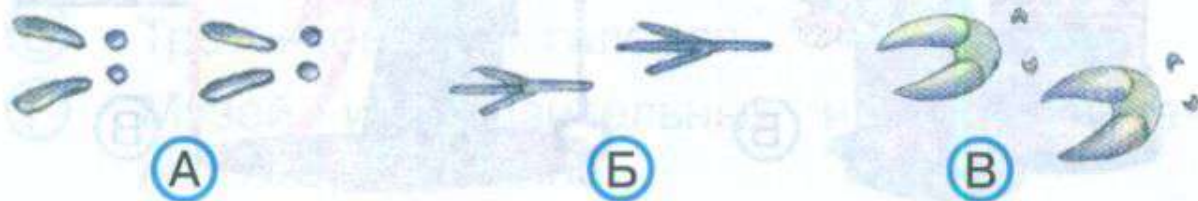
113. В каком ответе зимние месяцы перечислены в правильном порядке?

- Ⓐ Январь, декабрь, февраль
- Ⓑ Февраль, январь, декабрь
- Ⓒ Декабрь, январь, февраль


114. К зимним явлениям в неживой природе НЕ относится:

- Ⓐ метель Ⓑ снегопад Ⓒ оттепель
- Ⓓ спячка животных Ⓔ гололедица

115. Найди на рисунке следы сороки.



116. На каком рисунке показаны плоды клёна и липы?



НЕВИДИМЫЕ НИТИ В ЗИМНЕМ ЛЕСУ

117. Семенами ели НЕ питается:

- А** белка **Б** клёст **В** дятел
Г лесная мышь **Д** заяц

118. В каком ответе рисунки подписаны в правильной последовательности?



- Ⓐ Дятел, королёк, клёст
- Ⓑ Клёст, дятел, королёк
- Ⓒ Клёст, королёк, дятел

*** 119.** Зимой в ветвях ели выёт гнездо и выводит птенцов:

- Ⓐ дятел
- Ⓑ клёст
- Ⓒ королёк
- Ⓓ снегирь

120. На снегу под елью найдены следы. Кто их оставил?



- Ⓐ Белка
- Ⓑ Заяц
- Ⓒ Лесная мышь
- Ⓓ Кабан

ЗДОРОВЬЕ И БЕЗОПАСНОСТЬ

СТРОЕНИЕ ТЕЛА ЧЕЛОВЕКА

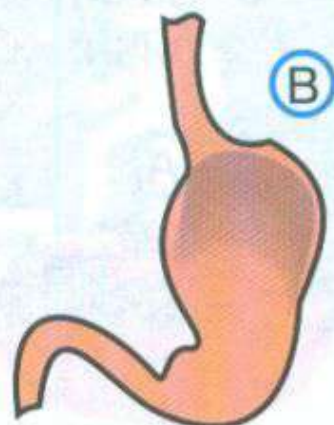
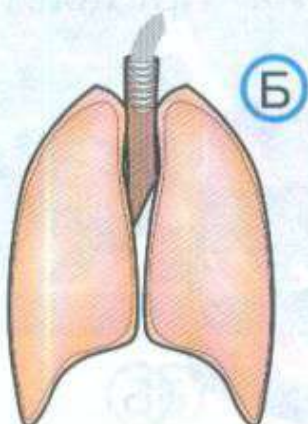
121. К внешнему строению тела человека относится:

- (А) голова (Б) сердце
(В) желудок (Г) головной мозг

122. К внутреннему строению тела человека относится:

- (А) шея (Б) спина
(В) живот (Г) кишечник

123. Отметь на рисунке лёгкие.



124. Что называют «неутомимым мотором» тела человека?

А Головной мозг

Б Сердце

В Лёгкие

Г Желудок

ЕСЛИ ХОЧЕШЬ БЫТЬ ЗДОРОВ

125. Какая последовательность занятий после школы полезнее для здоровья?

А Выполнение домашних заданий, обед, прогулка с собакой

Б Обед, прогулка с собакой, выполнение домашних заданий

В Обед, выполнение домашних заданий, прогулка с собакой

126. Какой из этих предметов должен быть личным?



127. Свет при письме должен падать:

- А) справа
- Б) спереди
- В) сзади
- Г) слева

128. В каком ответе перечислены только продукты растительного происхождения?

- А) Хлеб, чай, сыр, картофель, орехи.
- Б) Хлеб, помидоры, кофе, яблочный сок, варенье.
- В) Масло, сыр, творог, мясо, рыба.

БЕРЕГИСЬ АВТОМОБИЛЯ!

129. Отметь знак «Пешеходный переход».



- А) шальную ручку
- Б) ичку
- В) манё
- Г) Б

130. По загородной дороге следует идти:

- Ⓐ по обочине, навстречу движущемуся транспорту
- Ⓑ по обочине, в направлении движения транспорта
- Ⓒ по обочине, независимо от направления движения транспорта
- Ⓓ по проезжей части дороги

131. Отметь знак «Движение пешеходов запрещено».



132. Цвет светофора, разрешающий переходить улицу:

- Ⓐ красный
- Ⓑ жёлтый
- Ⓒ зелёный

ДОМАШНИЕ ОПАСНОСТИ

133. Какой из этих предметов опасно брать мокрыми руками?

А



Б



В



Г



134. Нельзя прикасаться:

А к горячей тарелке

Б к острой лопате

В к оголённому проводу

135. Без взрослых никогда НЕ используйте:

А сок

В лекарства

Б молоко

Г хлеб

136. Чтобы не обжечься, лучше всего использовать:

А мокрую тряпку

Б кухонное полотенце

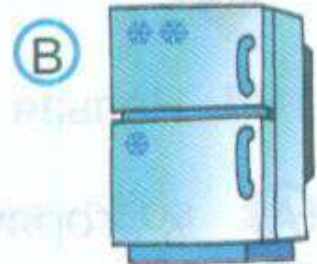

В специальную рукавичку

ПОЖАР!

137. С чем нельзя играть?

- (А) Кукла (Б) Компьютер (В) Спички

138. Что нельзя оставлять без присмотра?



139. По какому телефону вызывают пожарных?

- (А) 01 (Б) 02 (В) 03 (Г) 04


140. Какой предмет НЕ может понадобиться при тушении пожара?



ЛЕСНЫЕ ОПАСНОСТИ

141. Плоды какого растения ядовиты?

А



Б



В

142. К съедобным грибам НЕ относится:

А подберёзовик

Б подосиновик

В лисичка

Г мухомор

143. Какой из этих грибов ядовит?


А Сыроежка

Б Бледная поганка

В Рыжик

Г Волнушка

144. Отметь на рисунке жалящее насекомое.



КАК НУЖНО КУПАТЬСЯ?

145. Какое из этих мест предназначено для купания?

А



Б



146. Купаться можно только под присмотром:

- Ⓐ спасателей Ⓑ учителей
Ⓓ родителей Ⓒ взрослых

147. Какой из этих предметов НЕ пригодится тому, кто не умеет плавать?



148. В море нельзя:

- Ⓐ нырять Ⓑ быстро плавать
Ⓓ заплывать за буйки

НАША ДРУЖНАЯ СЕМЬЯ

149. Что такое семья?

- А** Хорошие знакомые
- Б** Близкие родственники, живущие вместе
- В** Добрые друзья

150. Лена живёт с мамой, папой, бабушкой и дедушкой. Когда Лена вырастет, её будут называть Елена Николаевна. Дедушку — папиного папу — зовут Дмитрий Степанович. Как зовут папу Лены?

- А** Дмитрий Николаевич
- Б** Николай Степанович
- В** Николай Дмитриевич

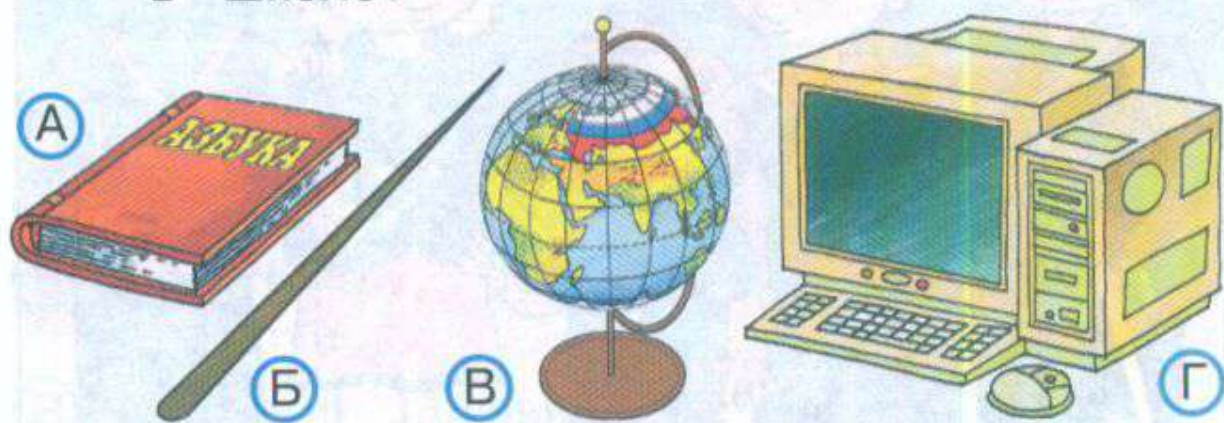
151. Денис живёт с мамой, папой и родителями папы. Полное имя мальчика — Денис Анатольевич. Как зовут дедушку Дениса?



- Продавец Благодарность
- А Анатолий Иванович
- Б Иван Петрович
152. Папу Андрея и Оли зовут Виктор Васильевич, а маму — Ирина Сергеевна. Какими будут полные имена Андрея и Оли?
- А Андрей Викторович и Ольга Викторовна
- Б Андрей Васильевич и Ольга Васильевна
- В Андрей Сергеевич и Ольга Сергеевна

В ШКОЛЕ

153. Что из нарисованного самое главное в школе?



154. Если в класс войдёт взрослый человек, ты будешь:

- (A) кричать «Здравствуйте!»
- (Б) махать рукой и кричать «Привет!»
- (В) приветствовать вошедшего стоя, молча

155. Что следует делать, если надо войти в класс или выйти из класса?

- (A) Пробежать быстрее других
- (Б) Пропустить учительницу, других взрослых
- (В) Расталкивать одноклассников

156. Серёжа хотел бросить бумажку в урну, но промахнулся. Что ему делать?

- Ⓐ Пройти мимо
- Ⓑ Оттолкнуть бумажку ногой
- Ⓒ Поднять бумажку и бросить в урну

ПРАВИЛА ВЕЖЛИВОСТИ

157. «Здравствуй!» — это приветствие. А что такое «До свидания»?

- Ⓐ Извинение
- Ⓑ Прощание
- Ⓒ Просьба
- Ⓓ Благодарность

158. Каким словом нельзя заменить слово «Здравствуй!»?

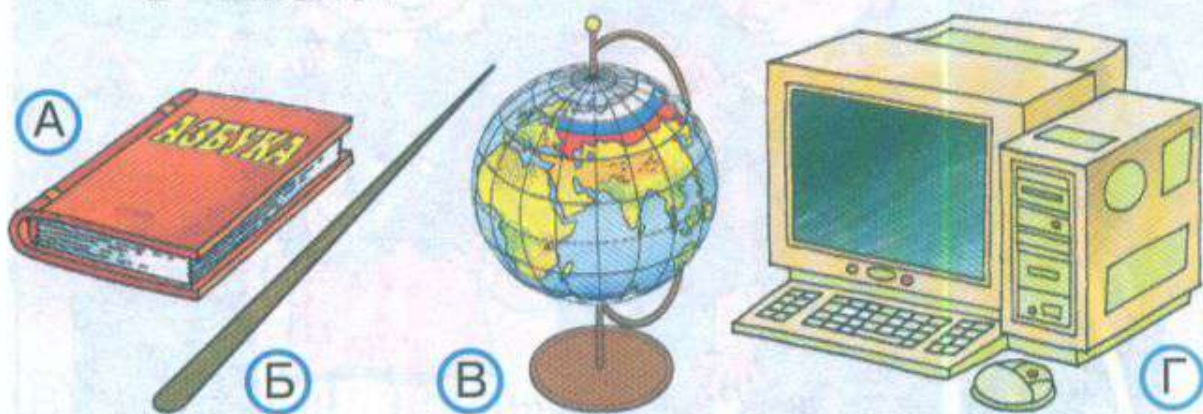
- Ⓐ Добрый день
- Ⓑ Пока
- Ⓒ Привет
- Ⓓ Доброе утро

159. К словам благодарности НЕ относится:

- Ⓐ спасибо
- Ⓑ извините
- Ⓒ благодарю

В ШКОЛЕ

153. Что из нарисованного самое главное в школе?



154. Если в класс войдёт взрослый человек, ты будешь:

- А кричать «Здравствуйте!»
- Б махать рукой и кричать «Привет!»
- В приветствовать вошедшего стоя, молча

155. Что следует делать, если надо войти в класс или выйти из класса?

- А Пробежать быстрее других
- Б Пропустить учительницу, других взрослых
- В Расталкивать одноклассников

156. Серёжа хотел бросить бумажку в урну, но промахнулся. Что ему делать?

- Ⓐ Пройти мимо
- Ⓑ Оттолкнуть бумажку ногой
- Ⓒ Поднять бумажку и бросить в урну

ПРАВИЛА ВЕЖЛИВОСТИ

157. «Здравствуйте!» — это приветствие. А что такое «До свидания»?

- Ⓐ Извинение
- Ⓑ Просьба
- Ⓒ Прощание
- Ⓓ Благодарность

158. Каким словом нельзя заменить слово «Здравствуйте!»?

- Ⓐ Добрый день
- Ⓑ Привет
- Ⓒ Пока
- Ⓓ Доброе утро

159. К словам благодарности НЕ относится:

- Ⓐ спасибо
- Ⓑ благодарю
- Ⓒ извините

160. Кто из мальчиков поступает плохо?



А



Б



В

ДЕНЬ РОЖДЕНИЯ

161. На день рождения лучше НЕ дарить:

А книгу

Б цветы

В лекарство

Г настольную игру

162. Как лучше приглашать друзей на день рождения?

А Приходи ко мне на день рождения. И не забудь подарок.

Б Приглашаю тебя на день рождения в субботу к двум часам. Приходи, пожалуйста. Мне будет очень приятно.

В У меня скоро день рождения. Приходи, если хочешь.

163. Отметь, кто из ребят правильно ведёт себя за столом.



164. Во время еды можно:

- А читать
- Б гладить кошку
- В разговаривать с полным ртом
- Г есть с ножа
- Д пользоваться салфеткой

МЫ — ЗРИТЕЛИ И ПАССАЖИРЫ


165. С какой стороны Серёже лучше пройти к своему месту, если у него билет на место № 3?



166. Во время спектакля можно:

- А пить газированную воду и есть чипсы
- Б аплодировать
- В разговаривать по мобильному телефону

167. Что можно делать в общественном транспорте?



168. Чего нельзя делать в самолёте? *

- Ⓐ Выключать мобильный телефон
- Ⓑ Пристёгивать ремни безопасности
- Ⓒ Вставать с места во время взлёта и посадки
- Ⓓ Читать журналы

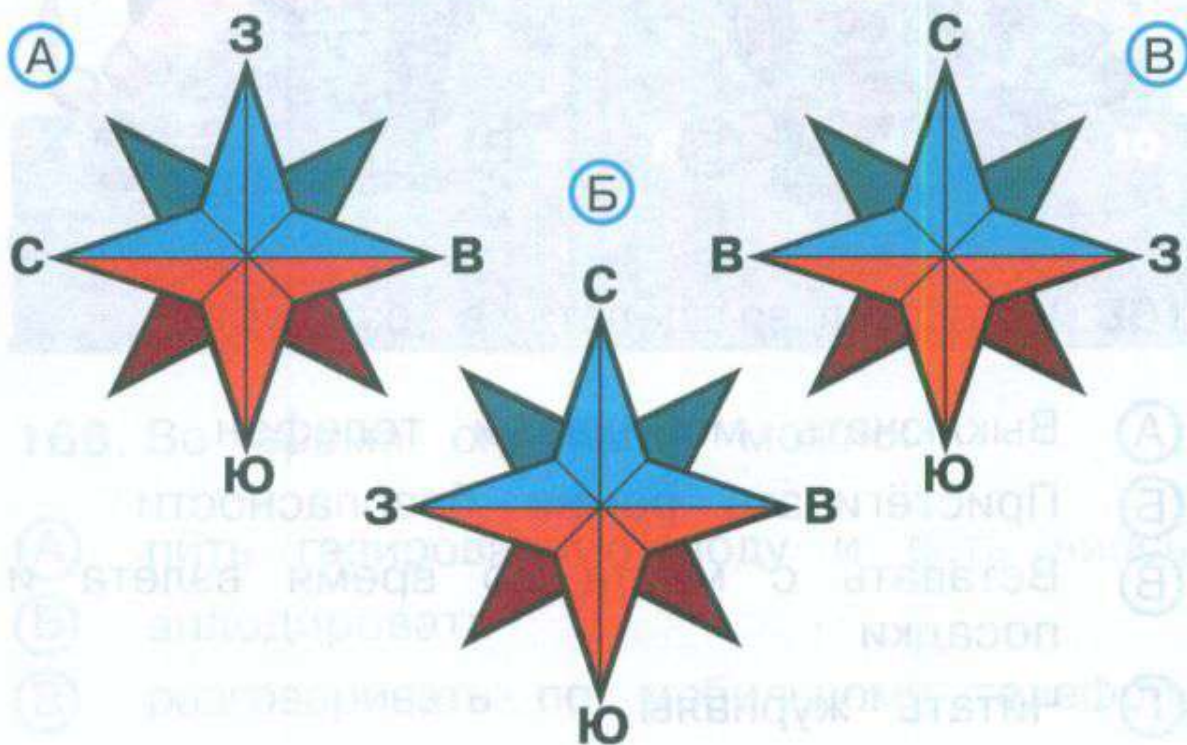
ПУТЕШЕСТВИЯ

ПОСМОТРИ ВОКРУГ...

169. Граница, где небо как бы сходится с земной поверхностью, называется:


- Ⓐ горизонт
- Ⓑ линия горизонта
- Ⓒ сторона горизонта

170. На какой схеме основные стороны горизонта обозначены правильно?

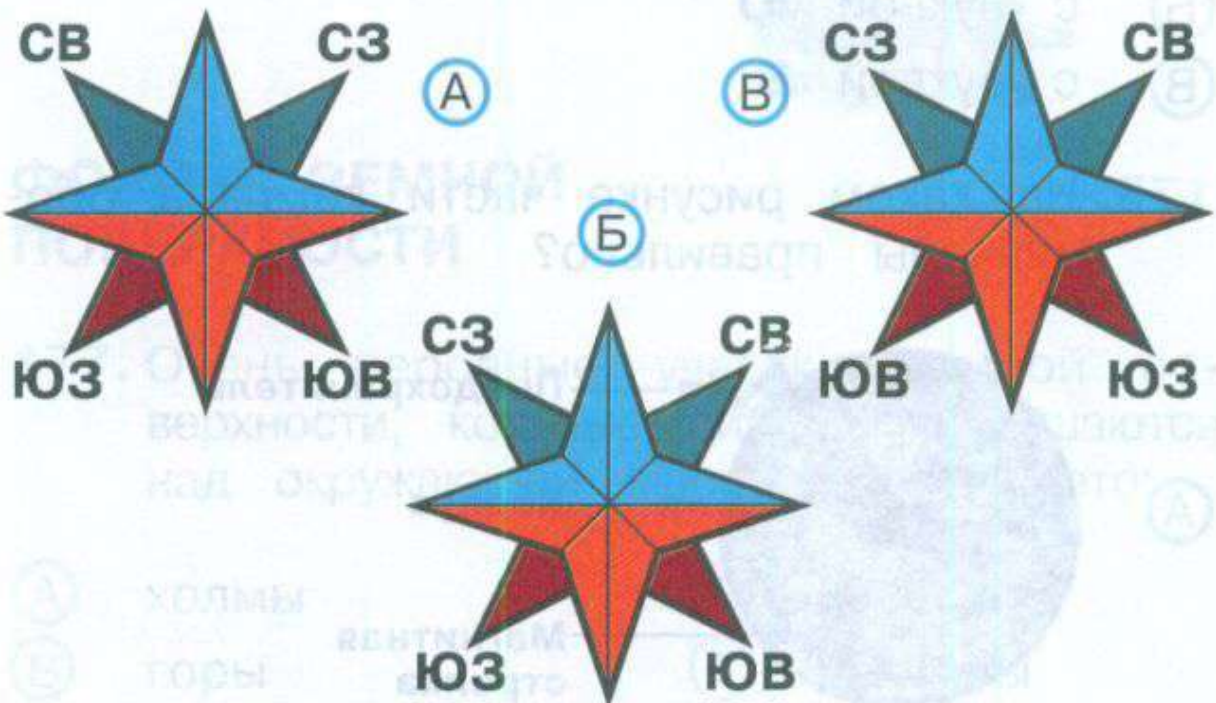


171. К основным сторонам горизонта НЕ относится:

- А север Б запад В юг
 Г северо-запад Д восток



172. На какой схеме промежуточные стороны горизонта обозначены правильно? *



ДЛЯ ЧЕГО НУЖЕН КОМПАС?

173. Компас — это:

- Ⓐ прибор для измерения времени
- Ⓑ прибор для измерения температуры
- Ⓒ прибор для определения сторон горизонта


174. Если синий конец стрелки компаса совпал с буквой **С**, то красный совпадёт:

- Ⓐ с буквой **З**
- Ⓑ с буквой **Ю**
- Ⓒ с буквой **В**

175. На каком рисунке части компаса обозначены правильно?



Б



Корпус

Предохранитель

Магнитная
стрелка

176. С какой стороны ветви у этого дерева длиннее и гуще? *

- А С западной
- Б С восточной
- В С северной
- Г С южной



ФОРМЫ ЗЕМНОЙ ПОВЕРХНОСТИ

177. Очень неровные участки земной поверхности, которые сильно возвышаются над окружающей местностью, — это:

- А холмы
- Б овраги
- В горы
- Г равнины

178. На какой схеме правильно подписаны части горы?

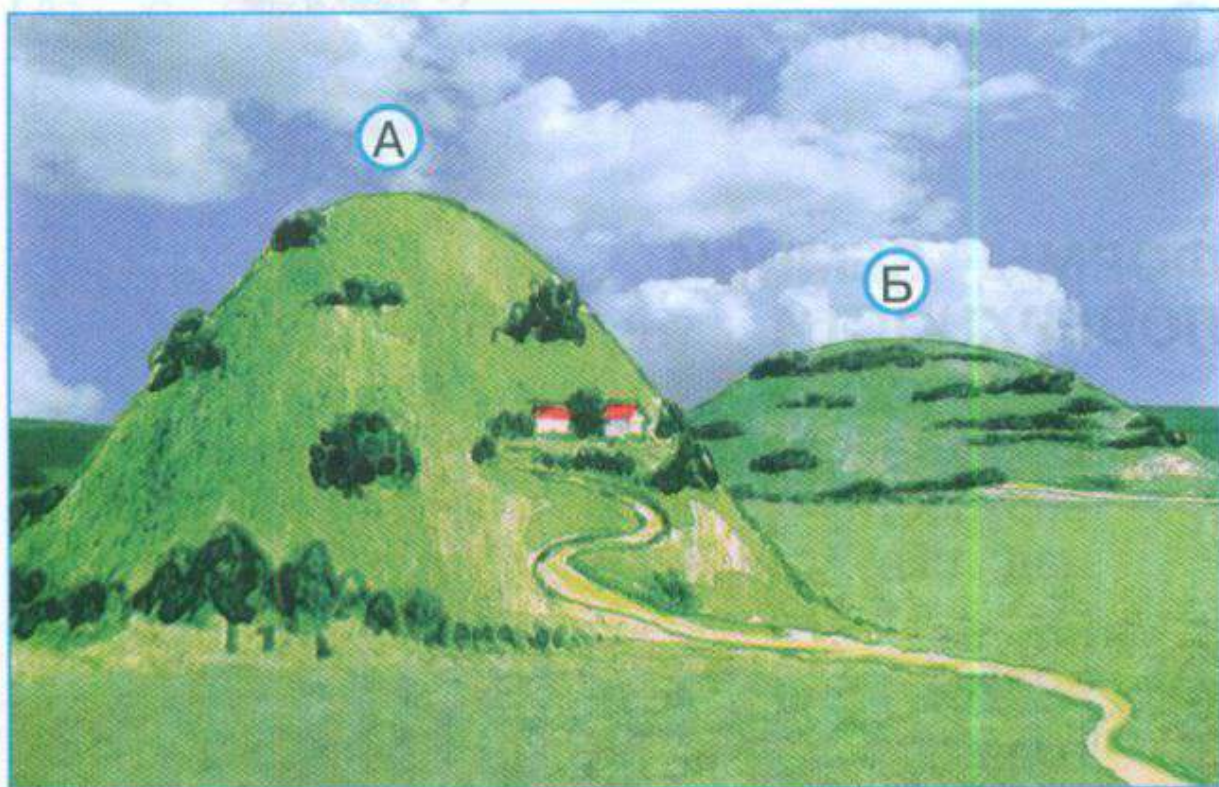


А



Б

179. Какой из холмов имеет более пологие склоны?



180. Найди неверное утверждение.

- Ⓐ Возвышения на равнинах называются холмами.
- Ⓑ Ряды гор называются горными хребтами.
- Ⓒ На равнинах можно встретить углубления с крутыми склонами — овраги.
- Ⓓ Подошва — самая высокая часть холма или горы.

ВОДОЁМЫ

181. К естественным водоёмам относится:

- Ⓐ канал
- Ⓑ озеро
- Ⓒ пруд
- Ⓓ водохранилище

182. К искусственным водоёмам относится:

- Ⓐ река
- Ⓑ озеро
- Ⓒ пруд
- Ⓓ море
- Ⓔ океан

183. На какой схеме правильно подписаны части реки?



184. Найди неверное утверждение.

- Ⓐ Истоком называют начало реки.
- Ⓑ Устьем называют место, где река впадает в другую реку, озеро или море.
- Ⓒ Руслом называют углубление, по которому течёт река.
- Ⓓ Если встать по течению реки, то слева будет правый берег, а справа — левый.

В ГОСТИ К ВЕСНЕ

185. В каком ответе весенние месяцы перечислены в правильном порядке?

- Ⓐ Май, март, апрель
- Ⓑ Апрель, март, май
- Ⓒ Март, апрель, май


186. К весенним явлениям в неживой природе НЕ относится:

- Ⓐ таяние снега
- Ⓑ ледоход
- Ⓒ половодье
- Ⓓ ледостав
- Ⓔ первая гроза

187. К весенним явлениям в живой природе НЕ относится:

- Ⓐ появление раннецветущих растений
- Ⓑ распускание листьев на деревьях и кустарниках
- Ⓒ появление насекомых
- Ⓓ прилёт перелётных птиц
- Ⓔ увядание трав

188. На каком рисунке изображена мать-и-мачеха?



ПУТЕШЕСТВИЕ ПО РОДНОЙ СТРАНЕ

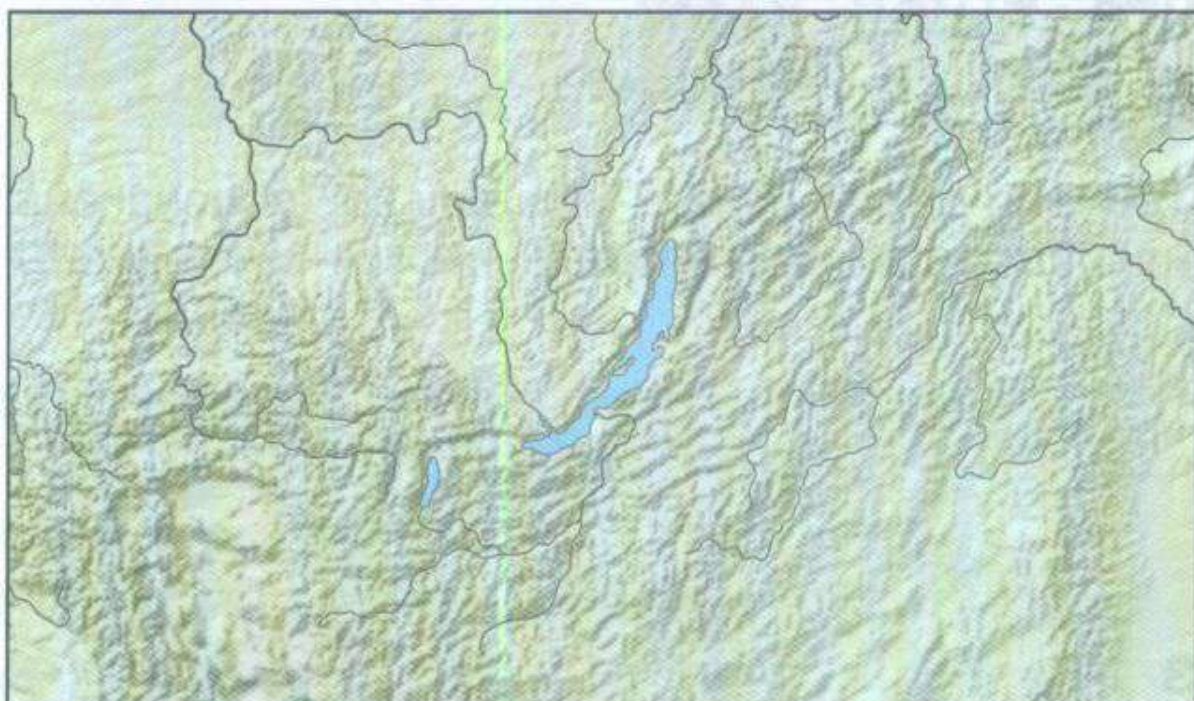
189. Какие горы находятся между Восточно-Европейской и Западно-Сибирской равнинами?

- А** Кавказские горы
- Б** Алтай
- В** Уральские горы
- Г** Саяны

190. Река Волга впадает:

- Ⓐ в Чёрное море
- Ⓑ в Каспийское море
- Ⓒ в Балтийское море
- Ⓓ в Охотское море

191. Что показано на фрагменте карты?



- Ⓐ Остров Сахалин
- Ⓑ Полуостров Камчатка
- Ⓒ Озеро Байкал
- Ⓓ Баренцево море

192. Какие города находятся к западу от Уральских гор?

- Ⓐ Пермь, Казань, Москва, Нижний Новгород
- Ⓑ Екатеринбург, Салехард, Якутск, Магадан

ЧТО ТАКОЕ КАРТА И КАК ЕЁ ЧИТАТЬ?

193. На какой карте правильно обозначены стороны горизонта?

Ⓐ

С



Ю

Б

С

Ю

З



В

194. Какой условный знак карты подписан неверно?

- (А) 
 (Б) 
 (В) 
 (Г) 

- (А) Города
 (Б) Реки
 (В) Болота
 (Г) Озера и водохранилища

195. Голубым цветом на карте обозначена:

- (А) суша
 (Б) вода

196. Что обозначено на карте зелёным цветом?



- (А) Низменности (Б) Возвышенности
(В) Горы (Г) Леса

ПУТЕШЕСТВИЕ ПО МОСКВЕ



197. Город Москва был основан:

- (А) более 300 лет назад
(Б) более 850 лет назад
(В) более 1000 лет назад

198. Основателем Москвы был:

- А** Георгий Победоносец
- Б** Юрий Долгорукий

199. На какой фотографии изображён памятник Юрию Долгорукому?



200. В каком ответе достопримечательности Москвы подписаны в правильной последовательности?



- А Большой театр, Третьяковская галерея, Цирк на Цветном бульваре, Театр зверей имени Дурова
- Б Театр зверей имени Дурова, Большой театр, Третьяковская галерея, Цирк на Цветном бульваре

МОСКОВСКИЙ КРЕМЛЬ

201. На какой фотографии изображён Московский Кремль?



202. Что НЕ находится на Красной площади?

- Ⓐ Храм Василия Блаженного
- Ⓑ Исторический музей
- Ⓒ Московский государственный университет

203. В каком ответе достопримечательности Московского Кремля подписаны правильно?



- Ⓐ Кутафья башня, Успенский собор
- Ⓑ Спасская башня, колокольня Ивана Великого
- Ⓒ Троицкая башня, Архангельский собор

* **204.** Стены из красного кирпича были выстроены в Московском Кремле при:

- Ⓐ Дмитрии Донском
- Ⓑ Иване Третьем

ГОРОД НА НЕВЕ

205. Город Санкт-Петербург был основан:

- Ⓐ более 300 лет назад
- Ⓑ более 500 лет назад
- Ⓒ более 1000 лет назад


206. Основателем Санкт-Петербурга был:

- Ⓐ Дмитрий Донской
- Ⓑ Юрий Долгорукий
- Ⓒ Пётр Первый

207. Что находится на Дворцовой площади?

- Ⓐ Памятник Петру Первому
- Ⓑ Исаакиевский собор
- Ⓒ Александровская колонна

208. В каком ответе правильно подписаны достопримечательности Санкт-Петербурга?



- Ⓐ Зимний дворец, Кунсткамера
- Ⓑ Зимний дворец, Петропавловская крепость
- Ⓒ Казанский собор, Петропавловская крепость

ПУТЕШЕСТВИЕ ПО ПЛАНЕТЕ

209. Узнай материк по силуэту.

- Ⓐ Северная Америка
- Ⓑ Южная Америка
- Ⓒ Евразия
- Ⓓ Африка
- Ⓔ Австралия



210. Европа и Азия — это:

- Ⓐ материки
- Ⓑ части света
- Ⓒ острова
- Ⓓ полуострова

211. Берега какого материка омываются четырьмя океанами?

- Ⓐ Африки
- Ⓑ Евразии
- Ⓒ Южной Америки
- Ⓓ Северной Америки

212. Какой океан омывает берега Евразии с запада?

- Ⓐ Северный Ледовитый
- Ⓑ Атлантический
- Ⓒ Тихий
- Ⓓ Индийский
- Ⓔ Южный

СТРАНЫ МИРА

213. Карты, на которых изображены разные страны, называются:

- Ⓐ физическими
- Ⓑ политическими



214. Россия находится на материке:

- Ⓐ Северная Америка
- Ⓑ Австралия
- Ⓒ Евразия
- Ⓓ Антарктида

215. Какие страны находятся в Северной Америке?

- Ⓐ Россия, Китай, Турция
- Ⓑ Бразилия, Чили, Аргентина
- Ⓒ Египет, Алжир, Судан
- Ⓓ Канада, США, Мексика

216. Определи страны по фотографиям и *
отметь правильный ответ.



- Ⓐ Россия, Китай, Япония
- Ⓑ Россия, Великобритания, Индия
- Ⓒ Россия, США, Франция


ВПЕРЕДИ ЛЕТО

217. В каком ответе летние месяцы перечислены в правильном порядке?

- А** Август, июнь, июль
- Б** Июнь, июль, август
- В** Июль, июнь, август

218. Отгадай загадку и отметь на рисунке отгадку.


Я капелька лета
На тоненькой ножке.
Плетут для меня
Кузовки и лукошки.



219. К летним явлениям в природе НЕ относится:

- Ⓐ жаркая погода
- Ⓑ появление ягод и грибов
- Ⓒ цветение липы
- Ⓓ появление проталин

220. Найди на рисунке жука-бронзовку.



ОТВЕТЫ

(числами обозначены номера заданий,
буквами — верные ответы)

1.	В	23.	В	45.	А	67.	В
2.	Б	24.	Д	46.	В	68.	Д
3.	А	25.	В	47.	В	69.	Б
4.	Б	26.	Г	48.	В	70.	В
5.	Б	27.	В	49.	В	71.	Г
6.	Д	28.	В	50.	В	72.	Б
7.	В	29.	А	51.	Г	73.	Б
8.	Д	30.	В	52.	Б	74.	Г
9.	Г	31.	А	53.	А	75.	Б
10.	Б	32.	В	54.	Б	76.	В
11.	Г	33.	Б	55.	Б	77.	Б
12.	В	34.	В	56.	Б	78.	В
13.	Г	35.	Г	57.	А	79.	В
14.	А	36.	Б	58.	В	80.	А
15.	Д	37.	Б	59.	Г	81.	Д
16.	Б	38.	Б	60.	Б	82.	А
17.	А	39.	А	61.	Б	83.	В
18.	Б	40.	Г	62.	Б	84.	Г
19.	В	41.	В	63.	Г	85.	А
20.	Б	42.	Г	64.	В	86.	Г
21.	Г	43.	В	65.	Г	87.	В
22.	Б	44.	В	66.	А	88.	В

89. Г	114. Г	139. А	164. Д
90. А	115. Б	140. В	165. А
91. Б	116. Б	141. Б	166. Б
92. Б	117. Д	142. Г	167. Б
93. В	118. В	143. Б	168. В
94. В	119. Б	144. В	169. Б
95. В	120. В	145. А	170. Б
96. Б	121. А	146. Г	171. Г
97. Г	122. Г	147. В	172. Б
98. В	123. В	148. В	173. В
99. Б	124. Б	149. Б	174. Б
100. Д	125. Б	150. В	175. А
101. В	126. В	151. Б	176. Г
102. В	127. Г	152. А	177. В
103. Г	128. Б	153. А	178. А
104. Г	129. Б	154. В	179. Б
105. Б	130. А	155. Б	180. Г
106. Г	131. Б	156. В	181. Б
107. Б	132. В	157. В	182. В
108. В	133. Б	158. В	183. Б
109. Б	134. В	159. В	184. Г
110. В	135. В	160. Б	185. В
111. В	136. В	161. В	186. Г
112. Б	137. В	162. Б	187. Д
113. В	138. Б	163. В	188. В

189. Б	197. Б	205. А	213. Б
190. Б	198. Б	206. Б	214. Б
191. Б	199. Б	207. В	215. Г
192. А	200. А	208. Б	216. В
193. А	201. В	209. Г	217. Б
194. В	202. В	210. Б	218. А
195. Б	203. Б	211. Б	219. Г
196. А	204. Б	212. Б	220. Г

СОДЕРЖАНИЕ

ГДЕ МЫ ЖИВЁМ

Твой адрес в мире	3
Что нас окружает	4

ПРИРОДА

Неживая и живая природа	7
Явления природы	8
Как измеряют температуру?	10
Что такое погода?	11
В гости к осени	13
Звёздное небо	14
Заглянем в кладовые Земли	16
Про воздух	17
...И про воду	18
Какие бывают растения?	20
Какие бывают животные?	21
Невидимые нити	23
Дикорастущие и культурные растения	25
Дикие и домашние животные	27
Комнатные растения	28
Животные живого уголка	30

Про кошек и собак.....	31
Красная книга	33
Будь природе другом!.....	34

ЖИЗНЬ ГОРОДА И СЕЛА

Город и село	36
Что такое экономика?	38
Из чего что сделано?	39
Как построить новый дом?.....	40
Какой бывает транспорт?	42
Культура и образование.....	43
Все профессии важны	45
В гости к зиме	46
Невидимые нити в зимнем лесу	47

ЗДОРОВЬЕ И БЕЗОПАСНОСТЬ

Строение тела человека	49
Если хочешь быть здоров	50
Берегись автомобиля!	51
Домашние опасности	53
Пожар!.....	54
Лесные опасности	55
Как нужно купаться?	56

ОБЩЕНИЕ

Наша дружная семья.....	58
В школе.....	60
Правила вежливости.....	61
День рождения.....	62
Мы — зрители и пассажиры.....	64

ПУТЕШЕСТВИЯ

Посмотри вокруг.....	66
Для чего нужен компас?.....	68
Формы земной поверхности.....	69
Водоёмы.....	71
В гости к весне.....	73
Путешествие по родной стране.....	74
Что такое карта и как её читать?.....	76
Путешествие по Москве.....	78
Московский Кремль.....	81
Город на Неве.....	83
Путешествие по планете.....	85
Страны мира.....	86
Впереди лето.....	88

ОТВЕТЫ.....	90
-------------	----

Учебное издание

Серия «Школа России»

Плешаков Андрей Анатольевич

Гара Наталья Николаевна

Назарова Зоя Дмитриевна

ОКРУЖАЮЩИЙ МИР

ТЕСТЫ

2 класс

**Пособие для учащихся
общеобразовательных учреждений**

Центр развития начального образования

Руководитель Центра **М. К. Антошин**

Заместитель руководителя **О. А. Железникова**

Руководитель издательского проекта «Школа России» **З. Д. Назарова**

Редактор **З. Д. Назарова**

Художественный редактор **А. П. Асеев**

Художники **В. Д. Калганов, С. В. Богачёв,**

И. Х. Халиков, В. В. Бастрыкин, А. П. Асеев

Оформление, макет и верстка **А. П. Асеева**

Технический редактор **Г. В. Субочева**

Корректор **И. А. Григалашвили**

Налоговая льгота — Общероссийский классификатор продукции ОК 005-93—953000.
Изд. лиц. Серия ИД № 05824 от 12.09.01. Подписано в печать 14.09.11. Формат 70×90^{1/16}.
Бумага офсетная. Гарнитура PragmaticaC. Печать офсетная. Уч.-изд. л. 3,58. Доп. тираж 60 000 экз.
Заказ № 31273 (П-90).

Открытое акционерное общество «Издательство «Просвещение».
127521, Москва, 3-й проезд Марьиной рощи, 41.

Отпечатано в полном соответствии с качеством предоставленных материалов
в ОАО «Смоленский полиграфический комбинат».
214020, г. Смоленск, ул. Смольянинова, д. 1.



Плешаков А. А.
Окружающий мир.
2 класс

- Учебник
- Рабочая тетрадь
- Тесты
- Рабочие программы. 1—4 классы
- Методическое пособие с поурочными разработками
- От земли до неба. *Атлас-определитель для начальной школы*
- Зелёные страницы. *Книга для учащихся начальных классов*
- Великан на поляне, или Первые уроки экологической этики. *Книга для учащихся начальных классов*
- Электронное приложение к учебнику

Сайт «Начальная школа»:
<http://1-4.prosv.ru>

ISBN 978-5-09-026454-9



9 785090 264549



ПРОСВЕЩЕНИЕ
ИЗДАТЕЛЬСТВО